

**TAREA DE VACACIONES DE SEGUNDO GRADO.**




NOMBRE Y APELLIDO:.....

Escuela  
Las Abrazayanes

¡NOS PREPARAMOS PARA TERCER GRADO!

**1-COMPLETÁ ESTÁ GRILLA CON LOS NÚMEROS QUE FALTAN Y PINTÁ AQUELLOS QUE SEAN PARES.**



	791			794					
								808	

**2- LEE LAS PISTAS Y ESCRIBÍ A QUÉ NÚMERO HACE REFERENCIA.**

A- ES EL RESULTADO DE SUMAR  $500+60+7$

B- SI RESTAS ESTOS NÚMEROS OBTENÉS EL RESULTADO SOLICITADO:  $784 - 80$

C- LAS TABLAS SON FÁCILES DE RECORDAR , ES EL RESULTADO DE MULTIPLICAR  $5 \times 3$

D- CADA CIFRA TIENE UN VALOR, ¿ QUÉ NÚMERO SERÁ?  $9C + 3D + 2U$

E- TIENE UN 6 EN LAS UNIDADES, PERTENECE A LA FAMILIA DEL 700 Y UN 5 QUE VALE 50.

F- ES LA MITAD DE 24

G- ES EL MAYOR NÚMERO DE TRES CIFRAS

H- ES EL POSTERIOR A 589

I- ES EL DOBLE DE 250

J-ES EL RESULTADO DE SUMAR  $550 + 50$

K- ¿QUÉ NÚMERO OBTENGO SI REALIZO  $500- 250$  ?



**3- PROBLEMAS SOBRE RUEDAS, OBSERVÁ Y COMPLETÁ.**



CANTIDAD DE BICICLETAS	CANTIDAD DE RUEDAS
1	2
2	
3	
4	
5	



CANTIDAD DE TRICICLOS	CANTIDAD DE RUEDAS
1	3
2	
3	
4	
5	



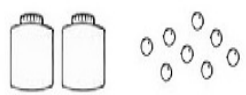
CANTIDAD DE AUTOS	CANTIDAD DE RUEDAS
1	4
2	
3	
4	
5	




4- REPARTIENDO, REPARTIENDO. ¿CUÁL ES LA OPERACIÓN QUE ME AYUDA A REPARTIR UNA CANTIDAD EN PARTES IGUALES? \_\_\_\_\_

REPARTÍ ESTAS  EN LOS , PARA QUE HAYA EN CADA UNO LA MISMA CANTIDAD.

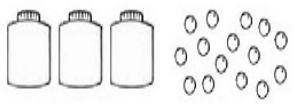
OPERACIÓN: \_\_\_\_\_  
 RESPUESTA: \_\_\_\_\_




OPERACIÓN: \_\_\_\_\_  
 RESPUESTA: \_\_\_\_\_



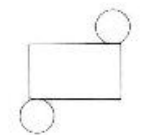
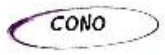
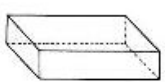

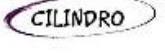
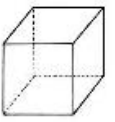



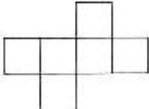
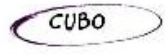

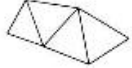


OPERACIÓN: \_\_\_\_\_  
 RESPUESTA: \_\_\_\_\_



OPERACIÓN: \_\_\_\_\_  
 RESPUESTA: \_\_\_\_\_



5- ¡SE DESARMARON LOS CUERPOS! PENSÁ COMO QUEDARÍA CADA CUERPO SI LO DESARMAMOS Y COLOREA CON EL MISMO COLOR JUNTO CON SU NOMBRE.

7- RESOLVÉ ESTAS OPERACIONES.

- 1)  $659 + 234$     2)  $900 - 345$     3)  $543 + 255$     4)  $569 - 186$     5)  $26 \times 2$     6)  $302 \times 3$     7)  $27 : 3$     8)  $12 : 4$